


جمع الأحجار

MIA

مجمع الأحجار
الإسلامية

إذا كان ...






هل يمكنك مساعدتنا في حل هذه المسائل؟

=  +  +  (1)

=  +  +  (2)

=  +  +  (3)

=  +  +  (4)

=  +  +  (5)

(6) اكتب معادلتين باستخدام الأحجار واطلب من اصدقائك حل المعادلات

نقطة إضافية!

انظر الى حلى العمامة، صنع في شمال الهند في القرن التاسع عشر.



و30 زمرد



إذا في القطعة 20 الماسه

ما هو المجموع؟

